


Oddział Międzyuczelniany PTTK w Warszawie

Egzamin na Organizatora Turystyki — 1.02.2005 r.



Uwagi dla zdających:

Egzamin składa się z 21 pytań pogrupowanych w 6 działów.

Punktacja dla poszczególnych pytań została przedstawiona obok.

Zaliczenie egzaminu polega na uzyskaniu ze wszystkich działów, co najmniej po 61 punktów.

Uprzejmie prosimy o udzielanie odpowiedzi tylko w ramach wyznaczonych do tego celu miejsc i o pisanie w sposób czytelny.

Powodzenia

Architektura		
1		50
2		20
3		30
razem		100
Historia turystyki i PTTK		
4		20
5		27
6		18
7		15
8		20
razem		100
Pierwsza pomoc		
9		24
10		36
11		40
razem		100
Etnografia i budownictwo drewniane		
12		40
13		25
14		35
razem		100
Przyroda i ochrona przyrody		
15		20
16		24
17		33
18		23
razem		100
Geografia turystyczna Polski		
19		40
20		36
21		24
razem		100

Architektura

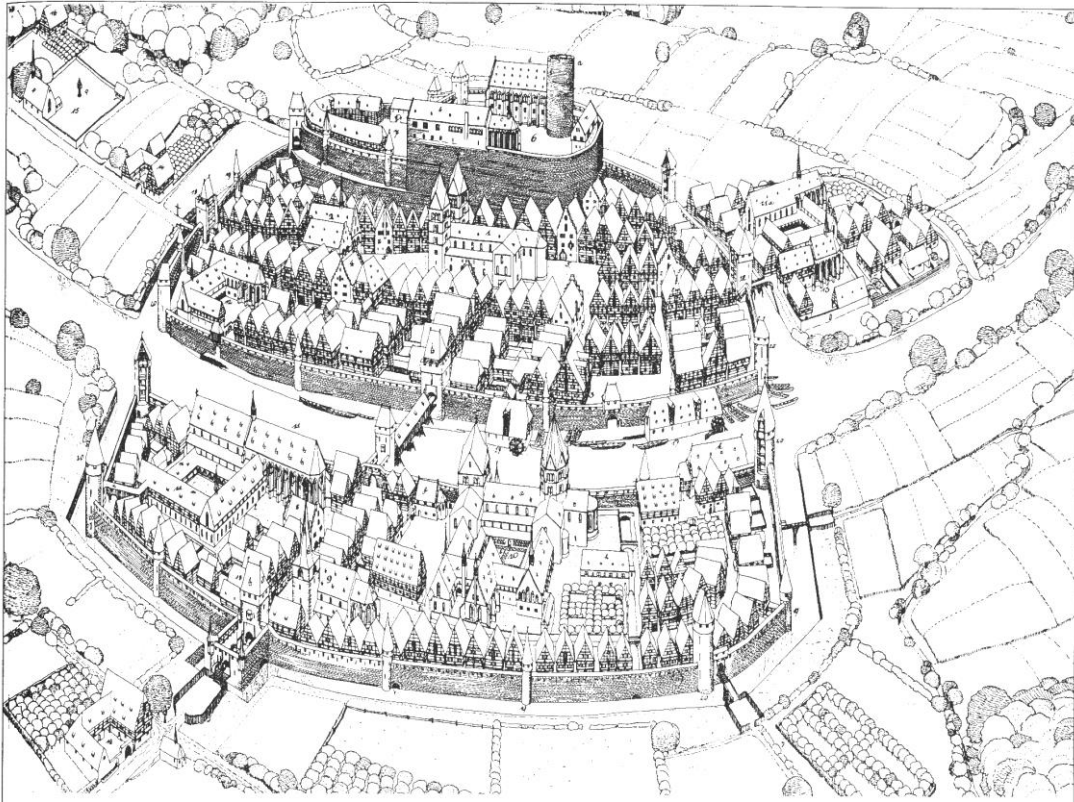
Pytanie 1



Opisz w 100 słowach obiekt przedstawiony na rysunku.

Uwaga: sprawdzający będzie czytał odpowiedź tylko do setnego słowa.

Pytanie 2



Zidentyfikuj i nazwij 10 elementów miasta zaznaczając je także na rysunku.

1.		2.	
3.		4.	
5.		6.	
7.		8.	
9.		10.	

Pytanie 3

Wybierz trzy obiekty miejskie zidentyfikowane w odpowiedzi na poprzednie pytanie i dla każdego z nich podaj opis jego funkcji w systemie miejskim.

	nazwa	opis funkcji
1.		
2.		
3.		

Historia turystyki i PTTK

Pytanie 4

Zidentyfikuj odznaki turystyki kwalifikowanej i krajoznawcze przedstawione poniżej:

Pytanie 5

Jakie są dwie uprawnienia Organizatora Turystyki PTTK i co to jest szkolenie ogólne?

--

Pytanie 6

Wymień pełne nazwy sześciu kół należących do Oddziału Międzyuczelnianego PTTK w Warszawie.

Pytanie 7

Opisz krótko, czym dla polskiej turystyki zasłużyli się:

Mieczysław Orłowicz	
Witold Henryk Paryski	
Henryk Sienkiewicz	
Stanisław Staszic	
Łukasz Wódkowski	

Pytanie 8

Przypisz do dat w zamieszczonych w poniższej tabeli następujące wydarzenia:

1. Beata z Kościeleckich Łaska odbywa wycieczkę z Kieżmarku do Zielonego Stawu,
2. otwarcie 20 przejść turystycznych na granicy polsko–czeskiej (3 w Beskidzie Śląskim, reszta w Sudetach),
3. powstaje Górskiego Ochotniczego Pogotowia Ratunkowego,
4. powstaje Polskie Towarzystwo Turystyczno–Krajoznawcze (PTTK),
5. ks. Stanisław Staszic wchodzi na Babią Górę,
6. w Warszawie powstaje Polskie Towarzystwo Krajoznawcze,
7. w Zakopanem powstaje (Galicyjskie) Towarzystwo Tatrzańskie,
8. Walery Eliasz–Radzikowski znakuje (jednym paskiem koloru cynobrowego) pierwszy szlak turystyczny w Tatrach: przez Psią Trawkę i Pol. Waksmundzką do Morskiego Oka,
9. z inicjatywy Hugona Zapałowicza Oddział Babiogórski TT buduje schronisko na Markowych Szczawinach pod Babią Górą,
10. z inicjatywy Mariusza Zaruskiego i Mieczysława Karłowicza powstało Tatrzańskie Ochotnicze Pogotowie Ratunkowe.

1565	1805	1873	1887	1906
1906	1909	1950	1952	1996

Pierwsza pomoc

Pytanie 9

Podaj trzy powody, dla których zażywanie środków przeciwbólowych w trakcie marszu w górach jest niewskazane.

--

Pytanie 10

Wymień 12 najbardziej niezbędnych Twoim zdaniem rzeczy, jakie powinny znaleźć się w apteczce 10-osobowej grupy wybierającej się na dwutygodniowy wędrowny obóz namiotowy w Bieszczady.

Pytanie 11

Wypełnij poniższą tabelę:

przypadłość	przeciwdziałanie	leczenie
duże obtarcie skóry pleców		
zatwardzenie u $\frac{3}{4}$ członków grupy		
lekkie odmrożenie stóp		
duży obrzęk ręki po ukąszeniu przez gza		

Etnografia i budownictwo drewniane

Pytanie 12



Opisz w 100 słowach obiekt przedstawiony na rysunku.

Uwaga: sprawdzający będzie czytał odpowiedź tylko do setnego słowa.

Pytanie 13

Wybierz pięć z wymienionych poniżej nazw i podaj ich krótką definicję:

babiniec, gont, ikonostas, krokiew, lamus, łątka, macewa, pazdur, sypaniec, węgiel, wyżka

Pytanie 14

Scharakteryzuj dowolnie wybraną grupę etniczną III Rzeczypospolitej, uwzględniając m.in. język, wyznania, rejony zamieszkania (obecnie i w przeszłości), charakterystyczne cechy kultury, zabytki itp.*

--

* Zastanów się dokładnie chodzi o mniejszość narodową.

Przyroda i ochrona przyrody

Pytanie 15

W jakich sytuacjach (prawnych) można przejść z grupą przez ścisły rezerwat przyrody:

Pytanie 16

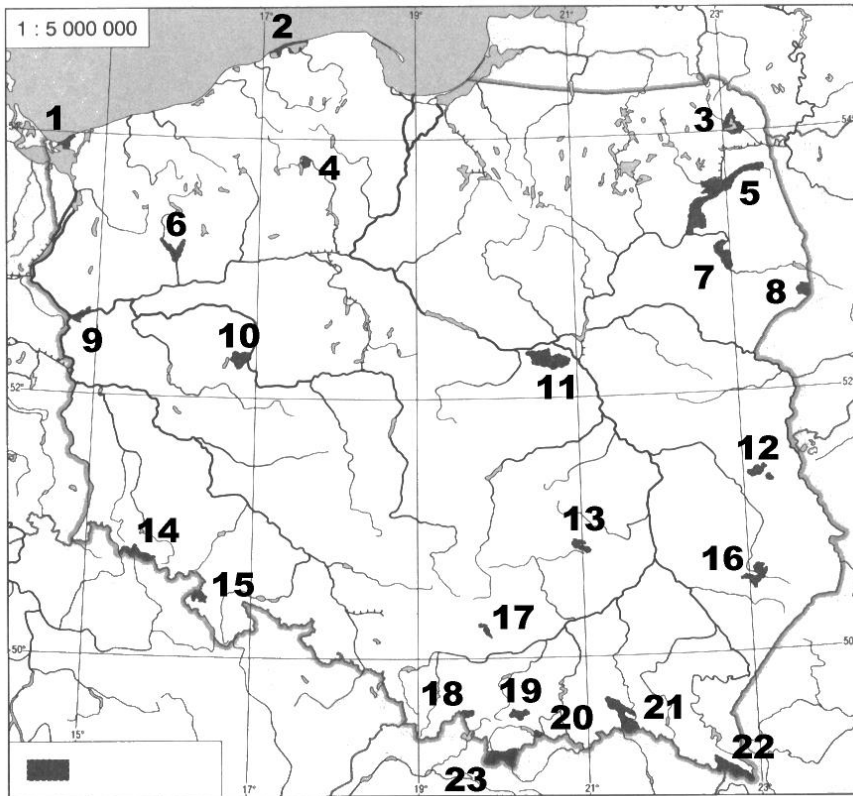
Wymień osiem znanych Ci rezerwatów przyrody.

Pytanie 17

Opisz dowolny typ zbiorowiska leśnego występującego w Polsce wraz z wymienieniem charakterystycznych dla nich gatunków roślin.

--

Pytanie 18



Podaj nazwy zaznaczonych na mapie parków narodowych:

1.		2.	
3.		4.	
5.		6.	
7.		8.	
9.		10.	
11.		12.	
13.		14.	
15.		16.	
17.		18.	
19.		20.	
21.		22.	
23.			

Geografia turystyczna Polski

Pytanie 19

Zaznacz na poniższej mapie Polski położenie dwudziestu wybranych z poniższej listy miejsc:



1. Jezioro Śniardwy	2. Gniezno
3. Biecz	4. Kłodzko
5. Cieszyn	6. Kołobrzeg
7. Góra Ślęza	8. Las Kabacki
9. Gniezno	10. Lesko
11. Drohiczyn	12. Lwówek Śląski
13. Golub-Dobrzyń	14. Łowicz
15. Chęciny	16. Pułtusk
17. Sulejów	18. Rysy
19. Wały Chrobrego	20. Twierdza Wisłoujście
21. Kętrzyn	22. Wąchock
23. Kalwaria Zebrzydowska	24. Zamość

Pytanie 20

Wymień 8 zamków (lub ruin zamków) w Polsce i 4 z nich zaznacz na poniższej mapie:



1.	2.
3.	4.
5.	6.
7.	8.

Pytanie 21

Podaj najwyższe szczyty pasm:

1. Góry Kaczawskie	
2. Góry Świętokrzyskie	
3. Beskid Makowski	
4. Beskid Wyspowy	
5. Pieniny	
6. Góry Izerskie	